
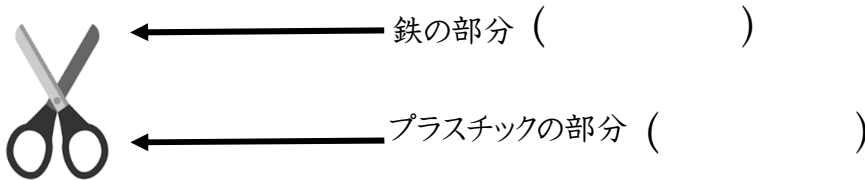


4年生理科 3年生のふく習①

名前( )

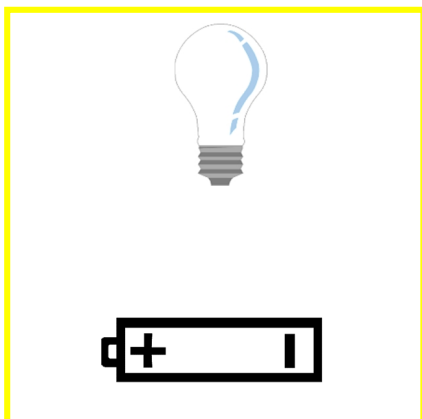
身のまわりには、電気を通すものと通さないものがあります。次のものの中で、電気を通すものには○、通さないものには×を書きましょう。



電気を通すものと通さないものを次のようにまとめました。( )に当てはまる言葉を書きましょう。

鉄や銅、アルミニウムなどの( )は、電気を( )。  
一方、プラスチックや紙、木などは、電気を( )。

豆電球とかん電池、どう線を使って明かりをつけます。豆電球の明かりがつくように、図の中にどう線をかきましょう。また、( )の中に当てはまる言葉を書きましょう。



明かりがつくときは、豆電球とかん電池の  
( )と( )が、1つの「わ」のよう  
になって、電気の通り道ができています。この電気の  
通り道を( )といいます。