

4 計算しましょう。

1 □にあてはまる数を入れて、計算しましょう。

① $16 \times 0.3 = 16 \times 3 \div \square =$

② $19 \times 0.04 = 19 \times 4 \div \square =$

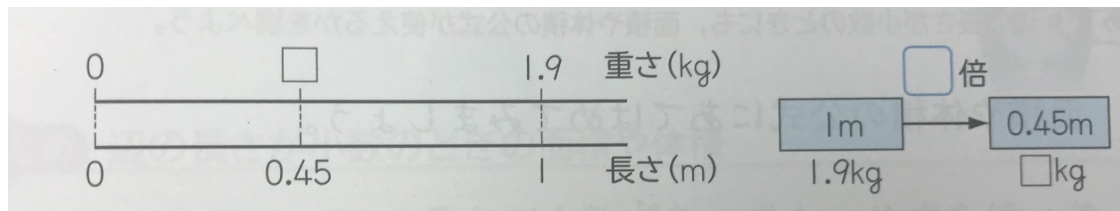
2 積がかけられる数よりも小さくなるのはどれですか。

答え _____

あ 5×2.9 い 5×0.6 う 5×0.08 え 5×1.05

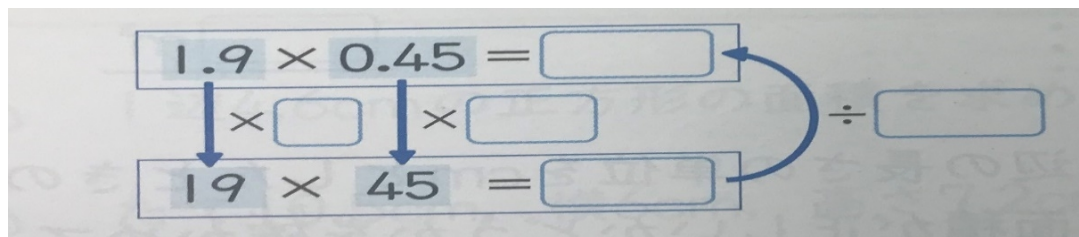
3 1mの重さが1.9kgの鉄パイプがあります。この鉄パイプ0.45mの重さは何kgですか。

① 下の図の青色で囲まれたくらんをうめて、式に書きましょう。



式

① 下の図の青色で囲まれたくらんをうめて、計算の説明を書きましょう。



計算の説明 _____

$$\begin{array}{r} 1.4 \\ \times 0.6 \\ \hline \end{array}$$

$$\begin{array}{r} 2.8 \\ \times 5.6 \\ \hline \end{array}$$

$$\begin{array}{r} 8.5 \\ \times 8.7 \\ \hline \end{array}$$

$$\begin{array}{r} 3.4 \\ \times 6.5 \\ \hline \end{array}$$

$$\begin{array}{r} 0.47 \\ \times 3.4 \\ \hline \end{array}$$

$$\begin{array}{r} 0.51 \\ \times 5.4 \\ \hline \end{array}$$

$$\begin{array}{r} 3.6 \\ \times 0.72 \\ \hline \end{array}$$

$$\begin{array}{r} 7.9 \\ \times 0.98 \\ \hline \end{array}$$

$$\begin{array}{r} 8.4 \\ \times 0.45 \\ \hline \end{array}$$

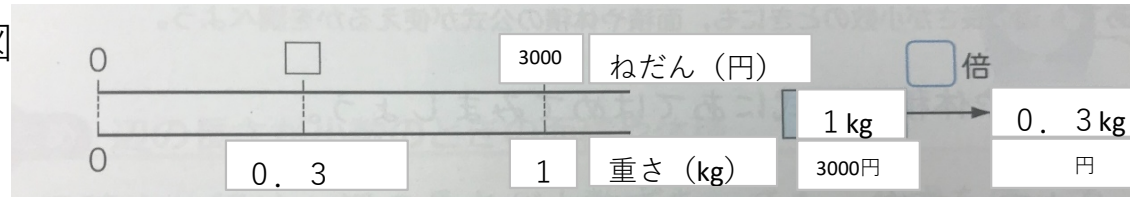
5 1kg 3000円のコーヒー豆を0.3kg買います。
1000円出したときのおつりは何円ですか？

式

答え

ねだんを求めて終
わってはいけな
いすよ！きか
れているのは
おつりです！

図



$$\begin{array}{r} 0.46 \\ \times 0.21 \\ \hline \end{array}$$

$$\begin{array}{r} 25 \\ \times 3.14 \\ \hline \end{array}$$

$$\begin{array}{r} 0.03 \\ \times 5.96 \\ \hline \end{array}$$